

省略(注1) の箇所は、著作権の都合上省略しています。

省略(注2) の箇所は、出題について誤りがあることが判明したため省略しています。

2026年度

Z

日本史

注意

1. 問題は全部で21ページである。
2. 解答用紙に氏名を忘れずに記入すること。
3. 解答はすべて解答用紙に記入すること。
4. 問題冊子の余白等は適宜利用してよいが、どのページも切り離してはいけない。
5. 解答用紙は必ず提出のこと。この問題冊子は提出する必要はない。

マーク・シート記入上の注意

1. HBの黒鉛筆またはシャープペンシルを用いて記入すること。
2. 解答用紙にあらかじめプリントされた受験番号を確認すること。
3. 解答する番号の○を塗りつぶしなさい。○で囲んだり×をつけたりしてはいけない。

解答記入例(解答が1のとき)

1	●	②	③	④	⑤	⑥	⑦	⑧	⑨	⑩	a	b	c	d	-	*
---	---	---	---	---	---	---	---	---	---	---	---	---	---	---	---	---

4. 一度記入したマークを消す場合は、消しゴムでよく消すこと。×をつけても消したことになる。
5. 解答用紙をよごしたり折り曲げたりしないこと。

I 次のA～Cの文章を読んで、後の問に答えなさい。(解答番号 1 ～ 15)

A 縄文時代が終末を迎えたころ、九州北部に中国大陸で発達した農耕文化が波及し、水田による稲作が開始された。その後、水稲耕作は東北地方にまで広まっていき、北海道と南西諸島を除く日本列島に本格的な農耕文化が形成された。古墳時代の人々にとっても農耕はとても重要であり、農耕に関する祭りが大切に行われてきた。

8世紀には、律令政府の主導のもと、鉄製の農具や進んだ灌漑技術をもって耕地の拡大が目指されたが、天候不順や虫害などによって飢饉も起こりやすく、国司・郡司による勸農政策があっても、農民は不安定な生活が続いた。

モンゴル襲来の前後から農業の発展が広く見られ、苧麻なども生産されるようになった。『一遍上人絵伝』には中世の定期市の様子が描かれており、それを見ると、荘園や公領の中心地や交通の要地、寺社の門前などで活発に商品の販売が行われていたことが分かる。

問1 下線部②に関連して、弥生時代前期の水田跡が発見された青森県の遺跡はどこか、次の選択肢の中から一つ選び、マークしなさい。 1

- | | |
|--------|-----------|
| ① 大塚遺跡 | ② 登呂遺跡 |
| ③ 砂沢遺跡 | ④ 青谷上寺地遺跡 |

問2 下線部⑥に関連して、古墳時代における祭祀についての説明I、IIについて、その正誤の組み合わせとして適切なものを、次の選択肢の中から一つ選び、マークしなさい。 2

- I 新嘗祭は収穫を感謝する秋の祭りであった。
II 5世紀になると、銅鏡、鉄製武器や農具を石などで大量に模造して、祭りに用いた。
- | | |
|------------|------------|
| ① I 正 II 正 | ② I 正 II 誤 |
| ③ I 誤 II 正 | ④ I 誤 II 誤 |

問 3 下線部㉔に関連して、『一遍上人絵伝』の説明として適切でないものを、次の選択肢の中から一つ選び、マークしなさい。 3

- ① 中世の武士の館の様子が描かれている場面がある。
- ② 備前国福岡市で一遍が布教する様子が描かれている。
- ③ 一遍が京都の市屋道場で弟子たちと踊念仏を行っている様子が描かれている。
- ④ 律宗を開いた一遍の生涯を描いた絵巻である。

問 4 下線部㉕に関連して、鎌倉時代の商業の様子として適切なものを、次の選択肢の中から一つ選び、マークしなさい。 4

- ① 金融業者の間丸が多く現われた。
- ② 定期市のほかに、常設の小売店も出現した。
- ③ 三斎市は年に三回開かれた。
- ④ 天皇家に属する有徳人と呼ばれる人々に、販売や製造についての特権が認められていた。

B 社会や歴史における女性の関わりは古来より決して小さくはなく、飛鳥時代から奈良時代の政治においては、推古天皇から あ 天皇に至るまで、^㉖8代の女性天皇が即位した。摂関政治においては、藤原氏などの有力貴族らは子女を入内させ、天皇のもっとも身近な外戚として大きな権力を握った。当時の貴族社会では、夫は妻の父の庇護を受けており、母方の縁が重要視されていた。また、こうした貴族たちが天皇の後宮に入れた娘たちに付き添わせた、すぐれた才能をもつ女性たちによって、^㉗かな文学が隆盛した。

^㉘中世の武家社会では、女性の地位は比較的高かったとされ、女性が地頭となる例も見られた。しかし、鎌倉時代後期に入ると、分割相続の繰り返しのより所領が細分化され、売買や質入れによって所領を失う御家人が多くなっていく。そうした動きにつれて、女性の地位が低下し始め、与えられる財産も少なくなっていった。

問 5 空欄 あ に入る天皇として適切なものはどれか、次の選択肢の中から一つ選び、マークしなさい。 5

- ① 皇極 ② 元明 ③ 元正 ④ 称徳

問 6 下線部㉙に関連して、縄文時代と弥生時代の女性に関連する説明として適切でないものを、次の選択肢の中から一つ選び、マークしなさい。 6

- ① 土偶は女性の出産や妊娠を表したものもあり、縄文章創期から出現する。
- ② 縄文時代になると、女性と男性の身分差が明確に現れた。
- ③ 邪馬台国の卑弥呼は、239年に魏の皇帝に使いを送った。
- ④ 266年に倭の女王が晋に朝貢した。

問11

省略(注2)

問12 下線部①に関連して、和気氏が書籍数千巻を用いて設置した施設はどれ

か、次の選択肢の中から一つ選び、マークしなさい。12

- ① 勸学院 ② 弘文院 ③ 学館院 ④ 奨学院

問13 下線部②に関連して、これを創設したのはだれか、次の選択肢の中から

一つ選び、マークしなさい。13

- ① 空海 ② 最澄 ③ 円仁 ④ 円珍

問14 下線部④に関する説明Ⅰ、Ⅱについて、その正誤の組み合わせとして適

切なるものを、次の選択肢の中から一つ選び、マークしなさい。14

Ⅰ 北条義時は宝治合戦により、北条氏と対抗しうる勢力を排除した。

Ⅱ 北条泰時は連署を新設し、初代に時房を任じた。

- ① Ⅰ 正 Ⅱ 正 ② Ⅰ 正 Ⅱ 誤
- ③ Ⅰ 誤 Ⅱ 正 ④ Ⅰ 誤 Ⅱ 誤

問15 下線部③に関連して、金沢文庫があった場所はどこか、次の選択肢の中

から一つ選び、マークしなさい。15

- ① 下総国 ② 相模国 ③ 加賀国 ④ 武蔵国

Ⅱ

次のA～Cの文章を読んで、後の問に答えなさい。(解答番号 16 ～ 35)

A 蒙古襲来後も日本と大陸・朝鮮との交流は続き、僧侶や商人が往来した。鎌倉幕府は建長寺造営の費用を得るために貿易船を元に派遣し、それにならった室町幕府も貿易船を派遣して天龍寺の造営を行い、後醍醐天皇をとむらった。

室町幕府が権力を固めていく14世紀後半から15世紀にかけての時期には、東アジア地域全体で大きな変化がおきた。中国では元にかわって漢民族王朝の明が建国され、日明貿易が開始された。朝鮮半島では高麗がたおれてあが朝鮮を建国し、日本との国交も開かれて日朝貿易は活発化した。また、沖縄では琉球王国が建ち、交易を通じて繁栄を極めるようになった。

問1 下線部④を開山した僧はだれか、次の選択肢の中から一つ選び、マーク

しなさい。16

- ① 蓮如 ② 夢窓疎石 ③ 黙庵 ④ 明兆

問2 下線部⑤に関する文Ⅰ、Ⅱについて、その正誤の組み合わせとして適切

なるものを、次の選択肢の中から一つ選び、マークしなさい。17

Ⅰ 八条院領を継承した持明院統の皇統として即位した。

Ⅱ 公武統一の建武の新政を進めるが、失敗し、隠岐に流された。

- ① Ⅰ 正 Ⅱ 正 ② Ⅰ 正 Ⅱ 誤
- ③ Ⅰ 誤 Ⅱ 正 ④ Ⅰ 誤 Ⅱ 誤

問 3 下線部㉔の時期の出来事について述べた文として適切でないものを、次の選択肢の中から一つ選び、マークしなさい。 [18]

- ① 幕府は守護の統制をはかるため、山陰を中心に勢力を張っていた山名氏清を倒した。
- ② 北海道では和人の圧迫にたえかねたアイヌが、大酋長コシヤマインを中心に蜂起した。
- ③ 京都室町に花の御所といわれる邸宅がかまえられ、そこで政治が行われた。
- ④ 東北・関東地方に陸奥將軍府・鎌倉將軍府において統治拠点とした。

問 4 下線部㉕に関して述べた文として適切でないものを、次の選択肢の中から一つ選び、マークしなさい。 [19]

- ① 遣明船には、日本が発給した勘合を持参することが義務づけられた。
- ② 朝貢貿易であったため、滞在費や運搬費は明側が負担した。
- ③ 幕府が衰退すると、貿易の実権は細川氏や大内氏の手に移った。
- ④ 明から大量の銅銭がもたらされ、日本国内に広く流通した。

問 5 空欄 [あ] に入る人名として適切なものを、次の選択肢の中から一つ選び、マークしなさい。 [20]

- ① 李舜臣
- ② 朱元璋
- ③ 李成桂
- ④ 朱舜水

問 6 下線部㉖に関して述べた文として適切でないものを、次の選択肢の中から一つ選び、マークしなさい。 [21]

- ① 朝鮮軍が倭寇の本拠地とみなした対馬を襲撃し、貿易は中断したが、その後再開した。
- ② 富山浦・乃而浦・塩浦に住む日本人居留民が反乱を起こし、日朝貿易は衰退へ向かった。
- ③ 日本からは木綿など織物類が輸出され、朝鮮からは銅や硫黄が輸入された。
- ④ 朝鮮は対馬の宗氏を通して貿易を統制しようとした。

問 7 下線部㉗に関して述べた文として適切でないものを、次の選択肢の中から一つ選び、マークしなさい。 [22]

- ① 中山王の尚巴志が三山を統一して建国した。
- ② 明が海禁政策をうちだすなか、中継貿易で活躍した。
- ③ 貿易を通じてアジア諸地域と交流を深め、独自の文化を形成した。
- ④ 明の冊封体制下には一貫して入らず、東南アジア各国との貿易にも進出した。

問13 16世紀から17世紀にかけての出来事について述べた文Ⅰ～Ⅲについて、古いものから年代順に並べたものとして正しい組み合わせを、次の選択肢の中から一つ選び、マークしなさい。 [28]

Ⅰ 領主の圧政やキリスト教徒の弾圧により、益田時貞を首領とした大規模な一揆が起こった。

Ⅱ 海上交通の安全を確保するため、倭寇などを取り締まる海賊取締令が出された。

Ⅲ 幕府は直轄領に禁教令を出し、翌年にはそれを全国に広げて信者に改宗を強制した。

- ① Ⅰ－Ⅱ－Ⅲ ② Ⅰ－Ⅲ－Ⅱ ③ Ⅱ－Ⅰ－Ⅲ
④ Ⅱ－Ⅲ－Ⅰ ⑤ Ⅲ－Ⅰ－Ⅱ ⑥ Ⅲ－Ⅱ－Ⅰ

C 江戸時代には陸上交通が整備されたが、大量の物資の輸送においては水上交通が大きな役割を果たした。17世紀前半には菱垣廻船が、18世紀前半には榎廻船が就航し、大坂・江戸間の物流を担った。また、17世紀後半には [か] によって、陸奥から南下して江戸にいたる東廻り航路、出羽から [き] を経由して大坂に物資を運ぶ西廻り航路が整備された。その後、北前船や [く] などの新しい廻船が発達し、地域市場を結びつける役割を果たしていった。

こうした海運業を含む諸産業の成長により、江戸や大坂など大都市を要とする全国市場が形成され、経済は発展した。また、19世紀には手工業生産のあり方にも様々な動きが見られるようになり、新たな経済活動が生み出されていた。

問14 下線部③に関連し、幕府の交通整備について述べた文として適切でないものを、次の選択肢の中から一つ選び、マークしなさい。 [29]

- ① 東海道・中山道・甲州道中・日光道中・奥州道中の五街道を管理・整備した。
② 主要な街道には、大名や幕府役人が利用する旅籠を整備した。
③ 脇街道と呼ばれる道路を全国に整備した。
④ 治安維持を目的として街道の要所に関所を置いた。

問15 下線部⑥に関する文Ⅰ、Ⅱについて、その正誤の組み合わせとして適切なものを、次の選択肢の中から一つ選び、マークしなさい。 [30]

Ⅰ 菱垣廻船と榎廻船の間ではしばしば紛争が生じ、幕末期には菱垣廻船が優位にたつようになった。

Ⅱ 海運業が活発になると、江戸の二十四組問屋や大坂の十組問屋のような連合組織が作られた。

- ① Ⅰ 正 Ⅱ 正 ② Ⅰ 正 Ⅱ 誤
③ Ⅰ 誤 Ⅱ 正 ④ Ⅰ 誤 Ⅱ 誤

問16 空欄 に入る人名として適切なものを、次の選択肢の中から一つ選び、マークしなさい。

- ① 紀伊国屋文左衛門 ② 角倉了以
③ 淀屋辰五郎 ④ 河村瑞賢

問17 空欄 に入る語句として適切なものを、次の選択肢の中から一つ選び、マークしなさい。

- ① 銚子 ② 下田 ③ 下関 ④ 駿府

問18 下線部㉔に関する文Ⅰ、Ⅱについて、その正誤の組み合わせとして適切なものを、次の選択肢の中から一つ選び、マークしなさい。

Ⅰ 太平洋各地に寄港しながら、蝦夷地の物産を江戸へ運んだ。
Ⅱ 最盛期には、各寄港地で買入れた荷を別の地域で売りさばく買積方式をとった。

- ① Ⅰ 正 Ⅱ 正 ② Ⅰ 正 Ⅱ 誤
③ Ⅰ 誤 Ⅱ 正 ④ Ⅰ 誤 Ⅱ 誤

問19 空欄 に入る語句として適切なものを、次の選択肢の中から一つ選び、マークしなさい。

- ① 新酒番船 ② 唐船 ③ 奉書船 ④ 内海船

問20 下線部㉕に関する文Ⅰ、Ⅱについて、その正誤の組み合わせとして適切なものを、次の選択肢の中から一つ選び、マークしなさい。

Ⅰ 労働者に器具と原料を自前で用意させ、その生産物を問屋が買い占める問屋制家内工業が広く発展した。
Ⅱ 一部の地域では、賃労働者を工場に集め、分業と共同作業で生産能率をあげる工場制手工業が出現した。

- ① Ⅰ 正 Ⅱ 正 ② Ⅰ 正 Ⅱ 誤
③ Ⅰ 誤 Ⅱ 正 ④ Ⅰ 誤 Ⅱ 誤

Ⅲ 次A及びBの文章を読んで、後の問に答えなさい。(解答番号 ～)

A

省略(注2)

問1

省略(注2)

問 2 下線部㉔に関連する記述として、誤っているものはどれか、次の選択肢の中から一つ選び、マークしなさい。 37

- ① 華族令が制定され、従来の華族や功労者に爵位を与えることにより、皇室の「藩屏」となることが期待された。
- ② 国政につき、天皇とともに議論し、決定するための機関として内閣制度が整備された。
- ③ 天皇の徳を国民に浸透させ、忠君愛国の精神を教育により徹底させるために教育勅語が発布された。
- ④ 天皇の地位や皇位継承など皇室に関わる事項を定めた皇室典範が制定され、皇室典範の改正や増補には議会の議決を必要としないとされた。

問 3 下線部㉕を起草したものとして正しい語句を、次の選択肢の中から一つ選び、マークしなさい。 38

- ① 福地源一郎 ② 植木枝盛 ③ 交詢社 ④ 立志社

問 4 下線部㉖のような憲法草案を何というか、次の選択肢の中から一つ選び、マークしなさい。 39

- ① 私擬憲法 ② 欽定憲法 ③ 民定憲法 ④ 協約憲法

問 5 下線部㉗のような憲法草案の中には、『五日市憲法草案』もある。この草案が起草された五日市町の現在の地名は何か、次の選択肢の中から一つ選び、マークしなさい。 40

- ① 東京都あきる野市 ② 東京都台東区
- ③ 埼玉県秩父市 ④ 埼玉県大宮市

問 6 下線部㉘に関して、『東洋大日本国国憲按』の特徴として、誤っているものはどれか、次の選択肢の中から一つ選び、マークしなさい。 41


- ① 抵抗権を定めている。
- ② 革命権を定めている。
- ③ 議会を一院制としている。
- ④ 中央集権体制を定めている。

問 7 下線部㉙はだれか、次の選択肢の中から一つ選び、マークしなさい。 42

- ① ボアソナード ② ロエスレル
- ③ グナイスト ④ シュタイン

問 8

省略(注2)

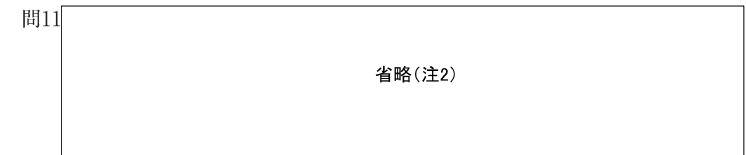


問 9 下線部③について、連名で同宣言を行った国の組み合わせとして正しいものはどれか、次の選択肢の中から一つ選び、マークしなさい。 44

- ① アメリカ・イギリス・ソ連
- ② アメリカ・イギリス・中国
- ③ アメリカ・ソ連・中国
- ④ イギリス・ソ連・中国

問10 下線部④について、五大改革に含まれないものはどれか、次の選択肢の中から一つ選び、マークしなさい。 45


- ① 国家と神道の分離
- ② 参政権付与による女性の解放
- ③ 労働組合の結成奨励
- ④ 経済機構の民主化



問12 下線部④に関連して、高野岩三郎らによる民間の憲法研究会が1945年12月に発表した「憲法草案要綱」の内容として、誤っているものはどれか、次の選択肢の中から一つ選び、マークしなさい。 47

- ① 国民主権
- ② 天皇制の廃止
- ③ 社会権の保障
- ④ 男女平等

問13 次の新聞記事は、下線部㉔のきっかけとなったものである。この記事に関する記述として正しいものはどれか、次の選択肢の中から一つ選び、マークしなさい。 48



出典：毎索(毎日新聞紙面検索)



問14 下線部㉔について、衆議院で行われた修正として、誤っているものはどれか、次の選択肢の中から一つ選び、マークしなさい。 49

- ① 原案1条「天皇は、日本国の象徴であり…この地位は、日本国民の至高の総意に基く。」
→修正1条「天皇は、日本国の象徴であり…この地位は、主権の存する日本国民の総意に基く。」
- ② 原案9条1項「国の主権の発動たる戦争と、武力による威嚇又は武力の行使は、他国との間の紛争の解決の手段としては、永久にこれを放棄する。」
→修正9条1項「日本国民は、正義と秩序を基調とする国際平和を誠実に希求し、国権の発動たる戦争と、武力による威嚇又は武力の行使は、国際紛争を解決する手段としては、永久にこれを放棄する。」
- ③ 原案9条2項「陸海空軍その他の戦力は、これを保持してはならない。(略)」
→修正9条2項「前項の目的を達するため、陸海空軍その他の戦力は、これを保持しない。(略)」
- ④ 原案64条「内閣総理大臣は、国务大臣を任命する。(略)」
→修正68条「内閣総理大臣は、国会の承認により、国务大臣を任命する。(略)」

問15 下線部㉔に関連して、新憲法の制定に伴い、多くの法律が制定または改正された。それに関する記述として、誤っているものはどれか、次の選択肢の中から一つ選び、マークしなさい。 50

- ① 新たに地方自治法が制定され、都道府県知事や市町村長が公選制とされた。
- ② 新たに警察法が制定され、警察庁の指揮の下に都道府県警察が一本化された。
- ③ 刑事訴訟法が改正され、令状主義や黙秘権が定められた。
- ④ 刑法が改正され、不敬罪や大逆罪、姦通罪が削除された。